



Національний
банк України

Вивчаємо

БАНКНОТИ ТА МОНЕТИ УКРАЇНИ

Робочий зошит
для учнів початкової школи
до уроку з фінансової грамотності



Зміст

1. Скільки грошей коштує товар: мало чи багато?	2
2. Скільки видів банкнот і монет в Україні?.....	3
3. Якого кольору гроші?	4
4. Скільки монет назбирав Миколка в скарбничку?.....	7
5. Чи вистачить Даринці грошей?	8
6. Допоможіть родині знайти загублені гроші	9
7. Який товар скільки коштує?.....	10
8. Де більше грошей?.....	11
9. Розміняйте гроші	12
10. Чи потрібна решта?	13
11. Порахуйте решту.....	14
12. Допоможіть Миколці купити продукти.....	15
13. Знайдіть підробку.....	16
14. Намалюйте власні гроші.....	17

Скільки грошей коштує товар: мало чи багато?


Визначте найдорожчий та найдешевший товари, що зображені на малюнках нижче. Обговоріть з однокласниками, за які товари потрібно заплатити багато грошей, а за які – менше.

10
гривень



- Мало
- Багато

300
тисяч
гривень



- Мало
- Багато

5
тисяч
гривень




- Мало
- Багато

200
гривень



- Мало
- Багато

3
тисячі
гривень



- Мало
- Багато

1
мільйон
гривень




- Мало
- Багато

100
гривень



- Мало
- Багато

20
гривень



- Мало
- Багато

Скільки видів банкнот і монет в обігу в Україні?

Сьогодні в Україні в обігу є різні банкноти і монети. Насамперед вони різняться за номіналом – вартістю, що зазначена цифрами на банкноті або монеті. Також гроші одного номіналу можуть мати різне оформлення, тобто якийсь час одночасно в обігу знаходяться банкноти та монети різних поколінь.

Порахуйте кількість номіналів банкнот і монет українських грошей. Потім визначте, скільки є сьогодні в обігу видів банкнот і монет, враховуючи всі їхні покоління. Відповіді запишіть.



Банкноти: номіналів; видів.

Монети: номіналів; видів.

Якого кольору гроші?

В Україні є 10 банкнот номіналом 1, 2, 5, 10, 20, 50, 100, 200, 500, 1000 гривень, 4 монети номіналом 1, 2, 5, 10 гривень та 2 монети номіналом 10, 50 копійок. Розфарбуйте кожну монету та банкноту у правильний колір (той, що домінує). Напишіть по крапкам цифри та слова.



10



50



1



1



2



5

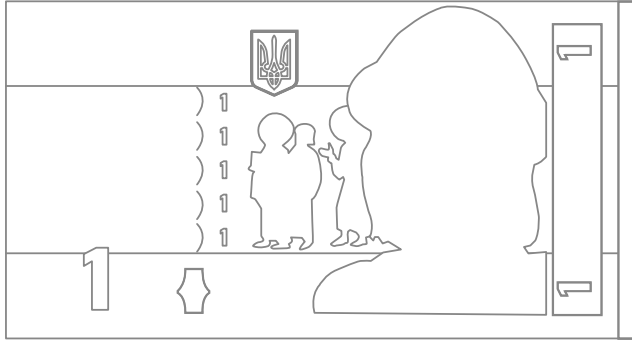


10

монета
копійка
гривня

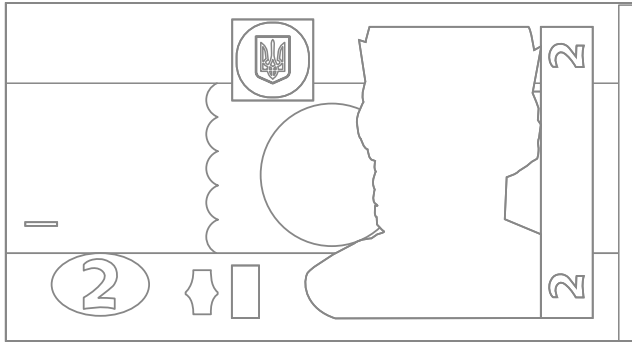
гроші
банк
ціна

1



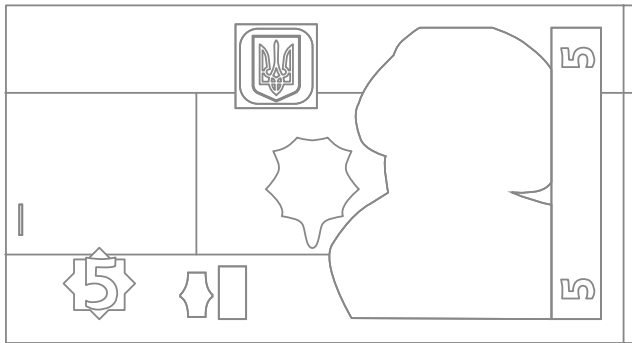
Князь
Володимир

2




Князь
Ярослав

5



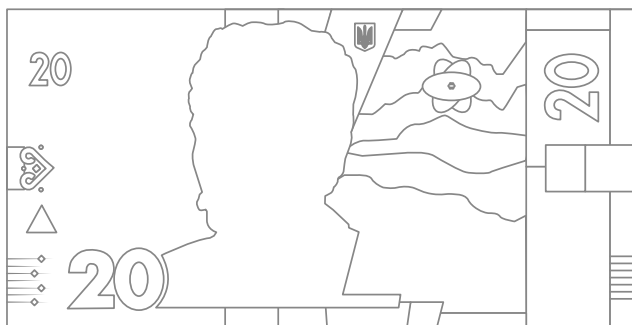
Гетьман

10



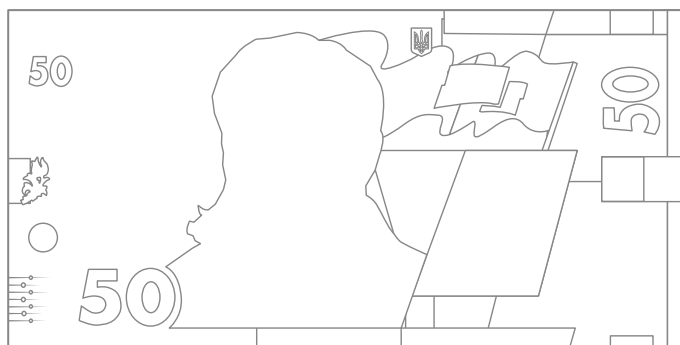
Запорізькі
козак

20



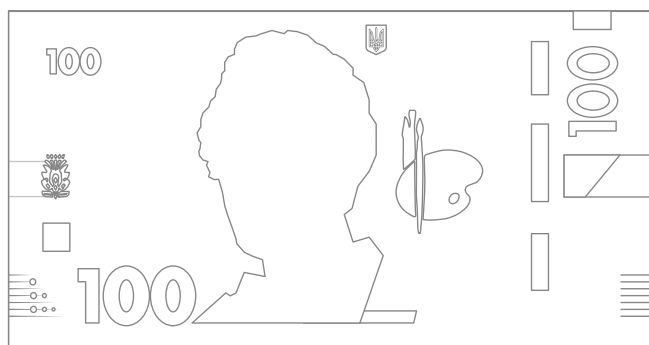
Григорій
Скиталець

50



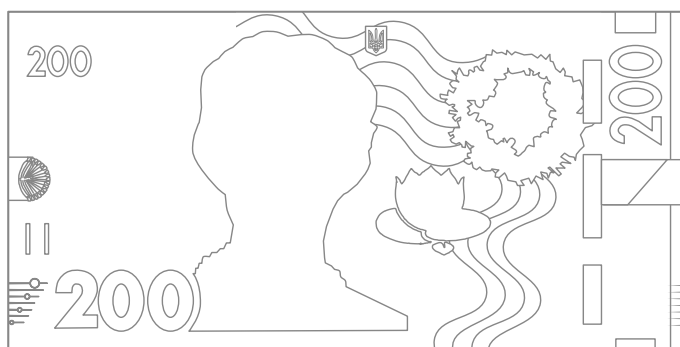
Тетарія

100




Кобзар

200



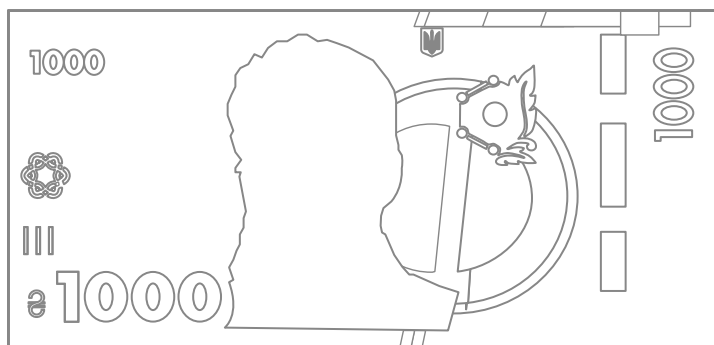
Лісова
лісня

500



Подорожні

1000



Свенні

Скільки монет назбирав Миколка в скарбничку?

Порахуйте!



_____ штук



_____ штук



_____ штук



_____ штук



_____ штук




_____ штук

Усього монет у Миколки: _____ штук.

Чи вистачить Даринці грошей?


Даринка збирає гроші в скарбничку, щоб купити розмальовку. Скільки вже вдалося назбирати Даринці? Порахуйте! Відповідь запишіть у відведене для цього поле.



Даринка назбирала: _____ грн _____ коп.

Допоможіть родині знайти загублені гроші

Знайдіть вихід із лабіринту та обведіть правильну банкноту чи монету.



Який товар скільки коштує?

З'єднайте лініями крапочки: від товару до його ціни.



Де більше грошей?

Поставте відповідний знак: $<$, $>$ чи $=$.

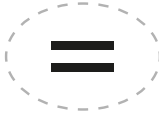

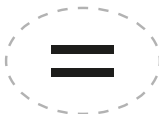



Розміняйте гроші!

Якій монеті чи банкноті відповідає сума грошей. Порахуйте! Зафарбуйте кружечок поруч із правильною відповіддю.

Грошей в гаманці

Відповідь



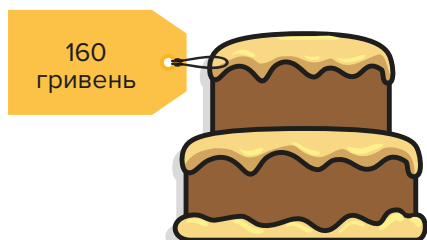
Чи потрібна решта?

Даринка робить покупки у різних магазинах для невеличкої вечірки з друзями. Допоможіть Даринці правильно визначити решту. Позначте правильну відповідь.



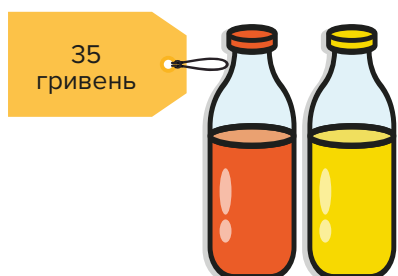
Чи потрібна решта?

- Так
- Ні



Чи потрібна решта?

- Так
- Ні



Чи потрібна решта?

- Так
- Ні

Порахуйте решту!

Відвідавши крамницю з випічкою, ви вирішили придбати рогалика, який коштує 15 гривень та сік за 8 гривень. Ви дали продавчині 50 гривень. Чи маєте ви отримати решту? Якщо так, то скільки?



+

 =

 гривень

Решта: _____ гривень

Допоможіть Миколці купити продукти!

Батьки дали Миколці 150 гривень, щоб він купив 1 батон, пів кілограма помідорів, 1 літр молока, 1 пачку цукерок, 2 кг огірків.

На цінниках видно, скільки коштує той чи інший товар.

Чи вистачить Миколці грошей, щоб придбати все зі списку? Порахуйте!
Якщо ні, то що вдасться купити? Чи буде у продавця решта?



Хліб – 1 шт


Помідори – 0,5 кг

Молоко – 1 л


Цукерки – 1 пачка

Огірки – 2 кг

15
гривень
за 1 кг




20
гривень



25
гривень



30
гривень
за 1 кг



30
гривень



Відповідь: _____



Знайдіть підробку!

Закресліть підроблені банкноти.



Намалюйте власні гроші!

Зобразіть власну банкноту чи монету. Що, на вашу думку, повинно бути на ній зображене? Чому?



Для нотаток

A series of horizontal dashed lines for taking notes.

Для нотаток

A series of horizontal dashed lines for taking notes.

Електронне навчальне видання
Робочий зошит для учнів початкової школи
для уроку з фінансової грамотності на тему
"Вивчаємо банкноти і монети України"

Укладачі: Тригуб Олена, Сидоренко Тетяна
Художнє оформлення: Святенко Анна, Башкевич Наталія
Літературний редактор: Луциков Євген
Липень 2021 рік

Національний банк України
01601 м. Київ
вул. Інститутська 9
bank.gov.ua

Відгуки, пропозиції та зауваження надсилайте
на електронну адресу:
finlit@bank.gov.ua



Вивчаємо

БАНКНОТИ ТА МОНЕТИ УКРАЇНИ

Робочий зошит
для учнів початкової школи
до уроку з фінансової грамотності

